

نام و نام خانوادگی:

دبستان غیردولتی گل یاس

شهرستان گلوگاه

تاریخ ارزشیابی: ۱۴۰۱/۲/۲۴

ارزیابی ریاضی پایه پنجم

معلم مربوطه: خانم امیرخانلو

۱- نیم دایره ----- خط تقارن دارد.

الف (۱ ب) بی نهایت

ج (ندارد د) ۲

۲- ۰/۱۲ متر چند سانتی متر است؟

الف) ۱۲۰ ب) ۱۲ ج) ۱/۲ د) ۱/۱۲

۳- ۲۵ سی سی چند میلی لیتر است؟

الف) ۲۵ ب) ۲۵۰ ج) ۲/۵ د) ۲۵۰۰

۴- جاهای خالی را با کلمات متناسب پر کنید.

از نمودار خط شکسته در چه مواقعی استفاده می کنیم؟.....

واحد استاندارد اندازه گیری زاویه ----- است.

اگر در یک بازی شانسی، احتمال برنده شدن بازیکنان مساوی باشد، به آن بازی ----- می گویند.

۵- صحیح و غلط گزینه‌ها را مشخص کنید.

الف) ارزش مکانی رقم ۸ در عدد ۱۴/۸۲، صدم می باشد.

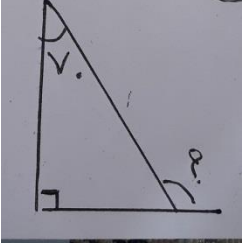
ب) ۲/۵ لیتر ۲۵۰۰ سانتی متر مکعب می باشد.

۶- عملیات زیر را انجام دهید.

$$= \frac{3}{0.1} - \frac{8}{12} \text{ (الف)}$$

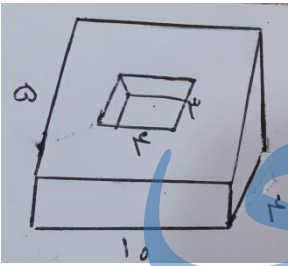
$$= \frac{0}{9} \times \frac{0}{0.1} \text{ (ب)}$$

۷- اندازه ی زاویه ی خواسته شده را بیابید.



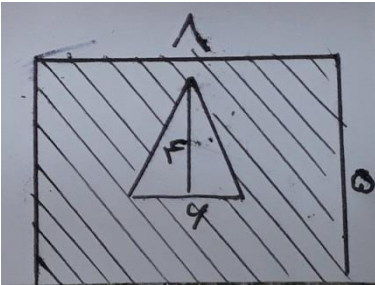
۸- استخری به شکل مکعب مستطیل به ابعاد $5/5$ ، 4 و 3 متر چند لیتر گنجایش دارد؟

۹- حجم شکل زیر را بدست آورید.

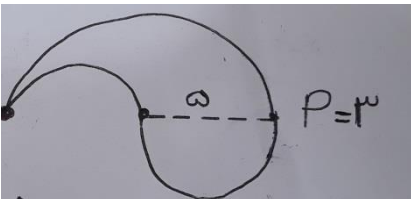


جزوه

۹- مساحت قسمت رنگی را بدست آورید.


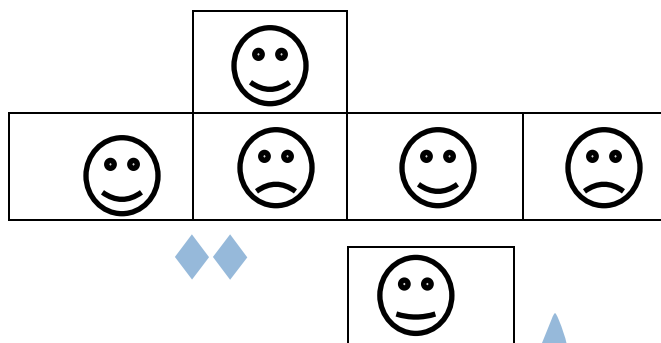


۱۰- محیط شکل زیر را بدست آورید.



۱۱- میانگین سه عدد ۱۵ است. اگر عدد اول ۱۲ و عدد دوم ۱۴/۵ باشد سومین عدد چند است؟

۱۲- با گسترده ی روبرو یک تاس میندازیم و آن را می اندازیم احتمال مشاهده هر شکل را به عبارت صحیح وصل کنید.



خیلی کم

جزوه سیتی

۱۳- رسم نمودار ستونی

| شهر | تبریز | ساری | شیراز | کرمان |
|---------------|-------|------|-------|-------|
| میزان بارندگی | ۱۰۰ | ۱۲۰ | ۶۰ | ۵۰ |

موفق و موید باشید

بایستم نامه ریاضی نهم

۱ ات ۲ ات ۳ ات ۴ ات (تصییرات با ۲۰ ح ۲ عادلانه)

۵ ات (ع ۱ ص)

۰/۰۰۹ ب

$$\begin{array}{r} ۸,۱۲ \\ - ۳,۰۱ \\ \hline ۵,۱۱ \end{array}$$

۶ $۹. + ۷. = ۱۶. \quad ۱۸. - ۱۶. = ۲.$

$۱۸. - ۲. = ۱۶. \rightarrow ۴.$

$۳ \times ۴ \times ۵,۵ = ۶۶ \text{ m}^۳$

$۶۶ \times ۱۰۰۰ = ۶۶۰۰۰$

لتر

$۵ \times ۱۰ \times ۴ = ۲۰۰$

$۴ \times ۳ \times ۴ = ۴۸$

$۲۰۰ - ۴۸ = ۱۵۲$

$۸ \times ۵ = ۴۰$

$۴ \times ۴ = ۲۴ \div ۲ = ۱۲$

$۴۰ - ۱۲ = ۲۸$

۱۱ $\frac{\text{صیدل بزرگ}}{\text{صیدل کوچک}} + \frac{\text{صیدل دایره تروپ}}{\text{صیدل دایره تروپ}} = ۱۵ + ۱۵ = ۳۰$

$\downarrow \quad \downarrow$

$۱۰ \times ۳ = ۳۰ \div ۲ = ۱۵ \quad ۵ \times ۳ = ۱۵$

۱۲ تعداد - مربع داده ها = $۱۵ = ۰ - ۳ \rightarrow ۰ = ۴۵$

$۱۲ + ۱۴,۵ = ۲۶,۵ \quad ۴۵ - ۲۶,۵ = ۱۸,۵$

۱۳ پنجاه پنجاه 😊 کم 😞 غیرممکن 😵 خیلی مهم 😞



جزوه سیپی

جزوه سیپی